

ESPACIO RESERVADO PARA  
PEGAR LA ETIQUETA DEL  
CÓDIGO DE BARRAS

PROCESO SELECTIVO PARA LA PROVISIÓN DE PLAZAS PARA EL PERSONAL LABORAL AL SERVICIO DE LA ADMINISTRACIÓN DE LA COMUNIDAD AUTÓNOMA DE EXTREMADURA, Orden de 27 de diciembre de 2013 (D.O.E. nº 249, de 30 de diciembre)

Tribunal de selección nº 2  
Categoría: Encargado/a  
Turno Libre

SEGUNDO EJERCICIO

CRITERIOS DE VALORACIÓN:

SUPUESTO Nº 1: 1,50 puntos.  
SUPUESTO Nº 2: 1,50 puntos.  
SUPUESTO Nº 3: 1 punto.  
SUPUESTO Nº 4: 1 punto.  
SUPUESTO Nº 5: 1,50 puntos  
SUPUESTO Nº 6: 1 punto.  
SUPUESTO Nº 7: 1,50 puntos.  
SUPUESTO Nº 8: 1 punto.




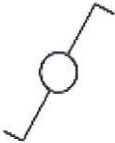








DURACIÓN: 75 MINUTOS

Mérida, 13 de Diciembre de 2016



**SUPUESTO Nº 1. (VALORACIÓN 1,50 PUNTOS)**

En la tabla siguiente aparecen símbolos de electricidad y fontanería. Escriba a la derecha de cada símbolo su significado:

**SUPUESTO N° 2. (VALORACIÓN 1,50 PUNTOS)**

A continuación aparece una tabla con señalización de seguridad. Escriba a la derecha de cada pictograma su significado:

**SUPUESTO N° 3. (VALORACIÓN 1 PUNTO)**

Identifique las siguientes imágenes, poniendo su nombre debajo de cada una de ellas..

Grupo electrógeno - Fancoil – Magnetotérmico –Caldera de vapor – Diferencial  
 Detector de presencia – Detector de humo -Contador de agua – BIE – UTA


**SUPUESTO N° 4. (VALORACIÓN 1 PUNTO)**

Relacione mediante flechas cada producto con la afirmación que mejor responde a su uso o aplicación:

- |                            |  |
|----------------------------|--|
| Agua oxigenada             | Se utiliza sobre todo para la desinfección de manos                |
| Detergente amoniacal       | Elimina residuos de cal  |
| Alcohol                    | Se usa principalmente en vitrificados sanitarios                   |
| Hexaclorofeno              | Evita el endurecimiento de manchas de sangre                       |
| Detergente ácido o vinagre | Se emplea en los embellecedores de conmutadores de luz y teléfonos |

**SUPUESTO Nº 5. (VALORACIÓN 1,50 PUNTOS)**

Agrupe las siguientes variedades de aceitunas, uvas, melocotones, cerezas y ciruelas, según corresponda en la siguiente tabla:

Egea, Angeleno, Bobal, Pardina, Manzanilla, Tirrenia, Cacereña Morisca, Eva, Red Star, Ambrunés, Verdial de Badajoz, Picual, Pico Limón Negro, Black Diamond, Cencibel, Alejandro Dumas, Navalinda, Merlot, Pioneer, Cornicabra

Aceitunas	Uvas	Melocotones	Cerezas	Ciruelas

**SUPUESTO Nº 6. (VALORACIÓN 1 PUNTO)**













Indique si son verdaderas o falsas las siguientes informaciones referidas a decoración y cuidado de plantas en interiores:

V	F	
		En invierno, las plantas necesitan más riego y más abono.
		Una planta adecuada para una ventana orientada al Sur y por tanto, con mayor exposición al sol, es el geranio.
		Hay que regar siempre antes de abonar.
		Despuntar es eliminar sistemáticamente las flores marchitas para evitar la difusión de enfermedades.
		En las rosas, a la parte del tallo que va a permanecer dentro del agua en un jarrón, se le debe podar las espinas.
		En los jarrones chinos o de muchos colores, se debe procurar que las flores no repitan los colores del recipiente ni armonicen con ellos.
		Los ramos muy próximos a rincones oscuros deben ser preferentemente a base de verde y follaje.
		Los colores fríos se emplearán para dar a una estancia sensación de reposo y tranquilidad.
		Los colores fríos se utilizan para reducir el volumen de un objeto.
		Una ventana puede parecer más grande, más alta o más pequeña, en función del tipo de cortinas o visillos que coloquemos.



**SUPUESTO N° 7. (VALORACIÓN 1,50 PUNTOS)**

Escriba a la derecha de cada herramienta su nombre:

**SUPUESTO Nº 8. (VALORACIÓN 1 PUNTO)**

Rellene el siguiente Diagrama de Flujo de comidas preparadas de un comedor colectivo:

